

1.

Co je na obrázku?



A) srnec

B) jelen

C) divočák

2.

Co je na obrázku?



A) kočka

B) jelen

C) prase divoké

3.

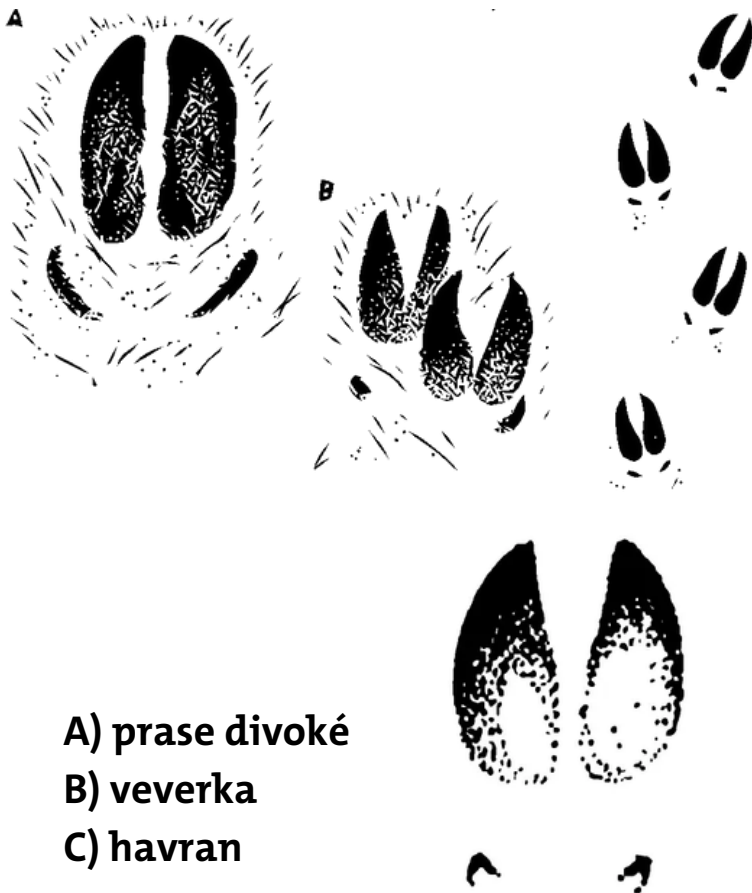
Co je na obrázku?



- A) liška
- B) kočka
- C) pes

4.

Co je na obrázku?




A) prase divoké

B) veverka

C) havran

5.

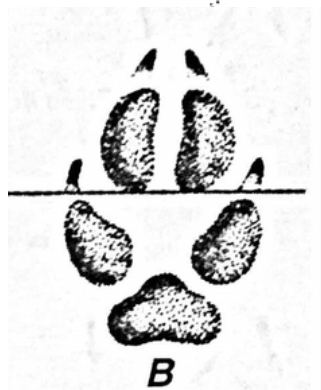
Co je na obrázku?



A) bažant

B) kočka

C) liška



6.


Co je na obrázku?



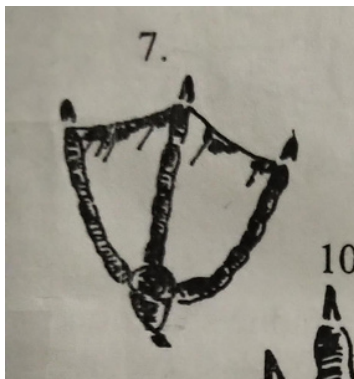
- A) bažant
- B) havran
- C) kachna

7.

Co je na obrázku?



- A) ondatra
- B) srnec
- C) kachna

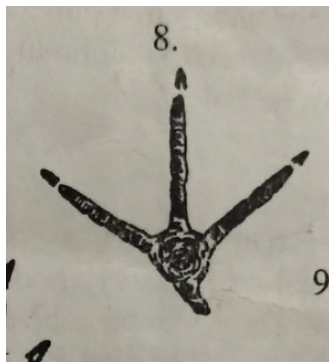


8.

Co je na obrázku?



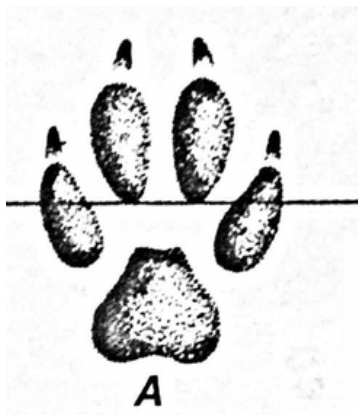
- A) havran
- B) liška
- C) bažant





9.

Co je na obrázku?



A) pes

B) kočka


C) liška

10.

Co je na obrázku?



- A) prase divoké
- B) veverka
- C) liška



**11.**

**Co je na obrázku?**



- A) veverka**
- B) medvěd**
- C) zajíc**

12.

Co je na obrázku?



A) zajíc

B) bažant

C) sova

13.

Co je na obrázku?




A) zajíc

B) ondatra

C) kočka

14.

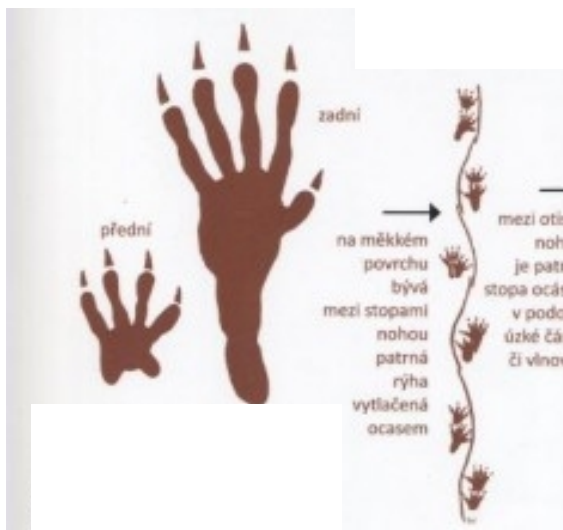
Co je na obrázku?



- A) srnec
- B) sova
- C) kuna

15.

Co je na obrázku?



- A) veverka
- B) ondatra
- C) medvěd

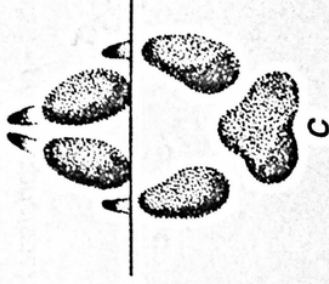
Porovnání šlápějí psa, lišky a vlka:

**A – pes** – spodní části prstových mozolů a stopy, takže nasedají blízko dlaňového mozolu. Stopa je otisky mozolů téměř zaplněná, uprostřed nevzniká žádný volný prostor. Prostřední dva prsty jsou rozevřené a směřují špičkami ven. Když si základnu jejich bříšek spojíme čarou, bude vždy protínat bříška krajních prstů;

**B – liška** – oba střední prsty jsou posunuté hodně dopředu, nerozevírají se a jejich zadní okraje jsou v téže linii, kde končí přední okraje obou bříšek krajních prstů. Uprostřed stopy vzniká větší volné místo; **C – vlk** – stopa je tvarem podobná liščí, přední prsty směřují dovnitř, oba krajní prsty jsou stlačeny ke středu, mezi dlaňovým mozolem a bříšky prstů vzniká podélně protažené volné místo



b





# Řešení

- 1.A- srnec
- 2.B - jelen
- 3.B - kočka
- 4.A - prase divoké
- 5.C - liška
- 6.B - havran
- 7.C - kachna
- 8.C - bažant
- 9.A - pes
- 10.B - veverka
- 11.B - medvěd
- 12.C - sova
- 13.A - zajíc
- 14.C - kuna
- 15.B - ondatra