


1.

Co je na obrázku?



- A) hloh
- B) smrk
- C) jedle

2.

Co je na obrázku?



A) smrk

B) jedle

C) borovice

3.

Co je na obrázku?



A) smrk

B) jedle

C) borovice

4.

Co je na obrázku?



A) modřín

B) smrk

C) jedle

5.

Co je na obrázku?





A) dub

B) habr

C) buk

6.

Co je na obrázku?



- A) olše
- B) dub
- C) buk

7.

Co je na obrázku?



- A) habr
- B) buk
- C) jasan

8.

Co je na obrázku?



A) jírovec maďál

B) lípa

C) topol

9.

Co je na obrázku?




- A) bez černý
- B) lípa
- C) jeřáb



10.

Co je na obrázku?



- A) buk
- B) lípa
- C) olše

11.

Co je na obrázku?



- A) javor
- B) bříza
- C) jasan

12.

Co je na obrázku?



- A) topol
- B) bříza
- C) jeřáb

13.

Co je na obrázku?



- A) smrk
- B) jasan
- C) růže



14.

Co je na obrázku?



- A) hloh
- B) akát
- C) jeřáb

15.

Co je na obrázku?



- A) líska
- B) růže
- C) pamelník

16.

Co je na obrázku?



- A) javor
- B) jasan
- C) akát

17.

Co je na obrázku?



- A) pamelník
- B) bez černý
- C) lípa

18.

Co je na obrázku?



A) pamelník

B) hloh

C) růže šípková

19.

Co je na obrázku?



- A) bez černý
- B) hloh
- C) růže šípková

20.

Co je na obrázku?



- A) pamelník
- B) hloh
- C) růže šípková

Řešení

1. B - smrk ztepilý
2. B - jedle bělokorá
3. C - borovice lesní
4. A - modřín opadavý
5. C - buk lesní
6. B - dub letní
7. A - habr obecný
8. A - jírovec maďál
9. B - lípa srdčitá
10. C - olše lepkavá
11. A - javor mléč
12. A - topol černý/osika
13. B - jasan ztepilý
14. C - jeřáb ptačí
15. A - líska obecná
16. C - trnovník akát
17. B - bez černý
18. B - hloh obecný
19. C - růže šípková
20. A - pamelník